

1. Aşağıda verilen sürücülerden hangisi hava yolu taşıtını kullanır?

- A) pilot
- B) kaptan
- C) şoför

2. Aşağıdakilerden hangisi bağımsızlığımızın simgesi değildir?

- A) İstiklal Marşı
- B) Askerler
- C) Türk Bayrağı



Hakan

..... güvenli oyun alanlarıdır.

3. Hakan'ın cümlesindeki boşluğa aşağıdakilerden hangisi getirilebilir?

- A) Parklar
- B) Taşıt Yolu
- C) Caddeler

♥ Ambulans → 112

● Polis → 156

▲ İtfaiye → 110

4. Yukarıdaki eşleştirmelerden hangisi yanlıştır?

- A) ●
- B) ▲
- C) ♥



Trafik kurallarına niçin uymalıyız?

5. Yukarıdaki öğretmenin sorusunun cevabı aşağıdakilerden hangisidir?

- A) Polis ceza yazmasın diye
- B) Ailemizin sözünü dinlemek için
- C) Kendimizin ve başkalarının güvenliği için



6. Yukarıdaki haritada kaç numara ile gösterilen ilimiz ülkemizin başkentidir?

- A) 1
- B) 2
- C) 3



Elinde taşırsın,
Cebinde taşırsın.
Çok beklemez,
Sevdiklerine ulaşırsın.

7. Mert'in bilmecesinin cevabı aşağıdakilerden hangisidir?



A)



B)



C)

★	Deniz Yolu	Hava Yolu
Taksi	▲	Uçak
Kamyon	Tekne	■

8. Yukarıda verilen tabloyu doğru bir şekilde doldurmak için ★, ▲ ve ■ yerine sırasıyla aşağıdakilerden hangileri getirilmelidir?



- A) Taksi - Vapur - Bisiklet
 B) Kara Yolu - Otobüs - Feribot
 C) Kara Yolu - Gemi - Helikopter

9. Mustafa Kemal'in eğitim hayatına başladığı okul aşağıdakilerden hangisidir?

- A) Şemsi Efendi İlkokulu
 B) Mahalle Mektebi
 C) Selanik Askeri Rüştiyesi



10. 23 Nisan 1920'de Türkiye Büyük Millet Meclisi'nin açıldığı gün aşağıdaki bayramlardan hangisini kutlarız?

- A) Cumhuriyet Bayramı
 B) Zafer Bayramı
 C) Ulusal Egemenlik ve Çocuk Bayramı

TÜRKÇE

Bütün gece kar yağmış; evler, ağaçlar karla örtülmüştü. Ortalık bembeyaz olmuştu. Mahallenin çocukları sabahleyin karı görünce sokağa fırladılar. Bayırın başına kardan adam yaptılar. Başına bir şapka geçirdiler. Sonra onu kartopuna tuttular.

Murat, kızak kayan arkadaşların bağırdı:

- Salih, kızağa iyi tut, düşeceksin!

Ayşe, yünlü mantosuna sarılmıştı.

Kızağın köpeğini koymuş, korkusuzca kayıyordu.

Öteki kızaklar ise yokuş aşağı yıldırım gibi iniyordu. Çığlıklar, bağırmalar, gülmeler... Aman, ne güzel eğlence!

Ferit R. TUNÇER

(1.-2.-3. soruyu metne göre cevaplandırınız.)

1. Kar ne zaman yağmış?

- A) gündüz
 B) gece
 C) öğle

2. Çocuklar nerede kardan adam yapmışlar?

- A) parkın içine
 B) evin önüne
 C) bayırın başına

3. Ayşe kızağına kimi koymuş?

- A) Murat'ı
- B) köpeğini
- C) kardan adamı

1. Önce kaydırdıktan kaydı.
2. Parktan ayrılıp, eve döndü.
3. Ali, annesinden izin alıp evden çıktı.
4. Sonra salıncakta sallandı.
5. Arkadaşlarıyla parka geldi.

4. Yukarıda anlatılan olayların oluş sırasına göre dizilişi aşağıdakilerden hangisidir?

- A) 5 - 3 - 1 - 2 - 4
- B) 3 - 5 - 1 - 4 - 2
- C) 3 - 1 - 4 - 2 - 5



Bir ağacın gölgesinde

.....

5. Yukarıda verilen Keloğlan'ın cümlesindeki boş bırakılan yere aşağıdakilerden hangisi getirilebilir?

- A) biraz dinleneyim.
- B) kayığına atladım.
- C) değirmene gittim.

6. Aşağıdakilerden hangisi hayal unsurudur?

- A) eşek
- B) Keloğlan
- C) sihirli tas

7. Aşağıda verilenden hangisi zıt anlamlı kelimeler değildir?

- A) hızlı - yavaş
- B) soğuk - kış
- C) uzun - kısa

yararlı

faydalı

8. Yukarıda verilen kelimeler arasındaki anlam ilişkisi aşağıdakilerden hangisinde vardır?

- A) dolu - boş
- B) zor - kolay
- C) yıl - sene

"Murat'ın ağabeyi askere gitmiştir."

9. Yukarıdaki cümlede kaç kelime ve kaç hece vardır?

- A) 4 kelime 13 hece
- B) 4 kelime 11 hece
- C) 5 kelime 10 hece

Kitabı beğendin mi

Tatilde bol bol bisiklet süreceğim

Vah, zavallı kedi

10. Yukarıdaki cümlelerin sonuna sırasıyla hangi noktalama işaretleri konulmalıdır?

A) ? ! .

B) . ? !

C) ? . !



furkan, bu hafta onüç kitap okudu.

11. Yukarıda verilen cümledeki yazım yanlışlarının düzeltilmiş hali aşağıdakilerden hangisidir?

A) Furkan, bu hafta on üç kitap okudu.

B) Furkan, bu hafta onüç kitap okudu.

C) furkan, bu hafta on üç kitap okudu.

“Çok yürüdüğü yoruldu.”

12. Yukarıda verilen cümlede boş bırakılan yere aşağıdaki kelimelerden hangisi getirilebilir?

A) kadar B) gibi C) için

“Tilki, tepeye tırmanmış.”

13. Yukarıdaki cümleye soracağımız aşağıdaki sorulardan hangisinin cevabını öğrenebiliriz?

A) Nasıl?

B) Kim?

C) Ne zaman?

por	s-	ro-	kit-	göz-
	bot	aplık	lük	

14. Yukarıdaki kelimelerden hangileri satır sonunda hecelerine doğru ayrılmıştır?

A) spor - gözlük

B) robot - gözlük

C) kitaplık - robot

annesiyile

çıktı

yuvadan

tavşan

çorap

birlikte

minik


15. Yukarıdaki sözcüklerle anlamlı ve kurallı bir cümle oluşturduğumuzda hangi kelime dışarıda kalır?

A) birlikte

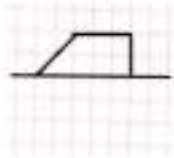
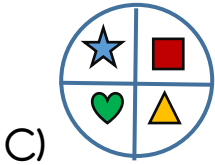
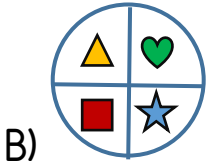

B) çorap

C) yuvasından

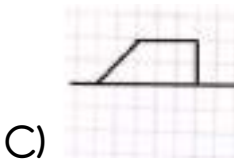
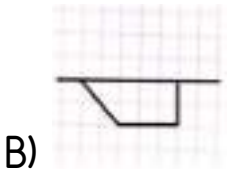
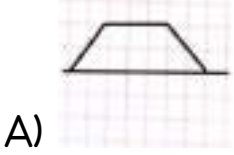
MATEMATİK



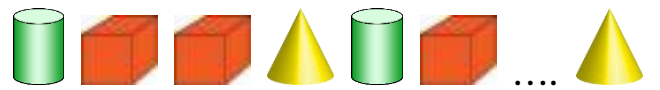
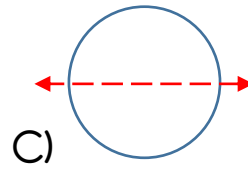
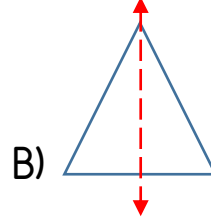
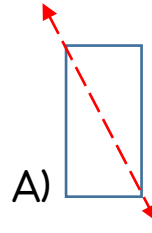
1. Yukarıdaki şekli saat yönünde çeyrek tur döndürürsek şeklin görüntüsü aşağıdakilerden hangisi gibi olur?



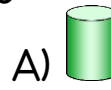
2. Yukarıda verilen şeklin simetriği aşağıdakilerden hangisidir?






3. Aşağıdaki şekillerden hangisi simetri çizgisine göre simetrik değildir?




4. Yukarıdaki örüntüde boş bırakılan yere aşağıdakilerden hangisi getirilmelidir?



5. Aşağıdakilerden hangisi bir örüntü değildir?

- A) 
- B) 
- C) 



6. Yukarıda verilen vazolardaki çiçek sayılarının toplamının çarpma işlemi şeklinde gösterimi aşağıdakilerden hangisidir?

- A) $4 + 3$
B) $3 + 3 + 3 + 3$
C) 4×3

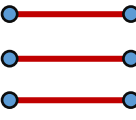
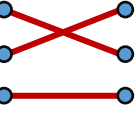
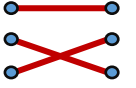
$8 \times 4 = ?$


7. Yukarıdaki işlemin sonucu aşağıdakilerden hangisidir?


- A) 1 onluk + 2 birlik
B) 3 onluk + 2 birlik
C) 2 onluk + 4 birlik


- $2 + 2 + 2 + 2 \circ$ $\circ 4 \times 2$
 $3 + 3 + 3 + 3 \circ$ $\circ 4 \times 4$
 $4 + 4 + 4 + 4 \circ$ $\circ 4 \times 3$




8. Yukarıda verilen toplama işlemlerinin çarpma işlemi şeklinde gösterimlerinin doğru bir şekilde eşleştirilmesi aşağıdakilerden hangisidir?

- A) 
- B) 
- C) 

$3 \times 0 =$ 

$5 \times 4 =$ 

$2 \times 8 =$ 

9. Yukarıda verilen işlemlerde  +  +  toplamı kaçtır?

- A) 39
B) 35
C) 36



Buse

$$6 \times 4 =$$



Cem

$$5 \times 7 =$$



Eren

$$4 \times 8 =$$

10. Yukarıdaki çarpma işlemlerinin sonuçlarının büyükten küçüğe doğru sıralanışı aşağıdakilerden hangisidir?

- A) Buse - Eren - Cem
B) Eren - Cem - Buse
C) Cem - Eren - Buse



11. Yukarıda verilen 4 ineğin ayak sayısı kaçtır?

- A) 16 B) 20 C) 24

12. Pastaneci Emine Hanım, günde 6 tane pasta satıyor. Sattığı pastanın 5 katı kadar pasta satsaydı, kaç pasta satmış olurdu?

- A) 30
B) 25
C) 20



13. Yukarıdaki çilekler tabaklara üçerli konulmak isteniyor. Kaç tabak gereklidir?

- A) 3 B) 5 C) 6

$$20 - 5 = 15$$

$$15 - 5 = 10$$

$$10 - 5 = 5$$

$$5 - 5 = 0$$

14. Yukarıdaki ardışık çıkarma işleminin bölme işlemi olarak gösterimi aşağıdakilerden hangisidir?

$$A) \begin{array}{r} 20 \\ \underline{4} \end{array}$$

$$B) \begin{array}{r} 15 \\ \underline{5} \end{array}$$

$$C) \begin{array}{r} 20 \\ \underline{5} \end{array}$$

★ $18 \div 3 = 6$

▲ $16 \div 4 = 5$

♥ $8 \div 2 = 4$

● $20 \div 5 = 6$

15. Yukarıda verilen bölme işlemlerinin hangileri doğrudur?

A) ★ ♥

B) ♥ ●

C) ★ ▲